

Treballs d'estiu de 2n curs d'Educació Primària

Et proposem uns treballs d'estiu per fer durant aquestes vacances. Seria convenient que els fessis amb regularitat.

Per tal de continuar sent tan bon lector com fins ara, fóra bo que llegissis una estona cada dia. Cal que vagis omplint el registre de biblioteca de les lectures d'estiu.

Abans de començar la feina convé que estiguis molt atent, amb el material preparat, recorda que cal fer-los només amb llapis negre i colors. Has d'entendre molt bé què cal fer.

Si tens dubtes demana als pares o als germans que t'ajudin o bé recorda com hem treballat a classe.

És important que tinguis en compte la presentació de tots els treballs i que facis bona lletra. **Recorda que cal que portis els dos llibres de lectura el primer dia del proper curs.** És convenient que torni tot dins del sobre de plàstic.

Que passis un bon estiu!

Agustí Olivares


Director d'Ed. Primària

Carola Miró
Olga Giner
Rosa Roura
Mireia Cristóbal

Mestres de 2n curs d'Ed. Primària



Barcelona, juny de 2015

Nom:



Deures d'estiu de Segon d'Educació Primària

Escola Thou Barcelona



Mathématiques

Operacions

$$643 + 23 + 7 =$$

$$82+608 + 12 =$$

$$896 - 632 =$$

$$868 - 454 =$$

Problemes

1. En Robert té 18 pomes. La seva amiga n'hi dona 12, i el seu amic Mateu 5. Se li podreixen 3 pomes. Quantes en té ara ?

Esquema:

Operació:

Resposta:

2. Si la Carla m'ha donat 20 euros i la meva tieta, la meitat més, quants diners tinc?

Esquema:

Operació:

Resposta:

Operacions

$$366 + 25 + 5 =$$

$$64 + 505 + 14 =$$

$$494 - 122 =$$

$$988 - 232 =$$

Quants en falten ?

$$6 + \dots = 16$$

$$120 + \dots = 220$$

$$17 + \dots = 37$$

$$110 + \dots = 150$$

$$5 + \dots = 50$$

$$80 + \dots = 100$$

$$9 + \dots = 60$$

$$68 + \dots = 88$$

$$15 + \dots = 45$$

$$140 + \dots = 180$$

Operacions.

$$343 + 6 + 77 =$$

$$84 + 46 + 12 =$$

$$894 - 632 =$$

$$768 - 453 =$$

Problemes

3. A la fruitera de casa hi ha 16 peres i 24 pomes. Si jo em menjo 4 peres i el meu germà 3 pomes, quantes peces de fruita hi quedaran?

Esquema:

Operació:

Resposta:

4. Després de menjar 4 galetes, me'n queden 25. Quantes galetes tenia?

Esquema:

Operació:

Resposta:

Problemes

5. En una botiga d'animals tenen gossos i gats. En total hi ha 26 animals. Si 5 són gats quants gossos tenen a la botiga?

Esquema:

Operació:

Resposta:

6. Un sac ple de cartes pesa 5 quilos. Si un altre pesa 7 quilos més, quants quilos pesa?

Esquema:

Operació:

Resposta:

Completa les multiplicacions :

$4 \times \dots = 20$

$5 \times \dots = 25$

$2 \times \dots = 12$






$4 \times \dots = 32$

$3 \times \dots = 15$

$5 \times \dots = 40$

$2 \times \dots = 16$

$3 \times \dots = 27$



Problemes

- En una taula hi ha 3 plats i a cada un hi ha 5 ous de xocolata. Quants ous hi ha en total?

Esquema:

Operació:

Resposta:

- Avui és primavera i tenim 4 gerros a les classes. A cada un hi ha 3 roses. Quantes roses tenim?

Esquema:

Operació:

Resposta:

Problemes

Matemàtiques 2n E.P

7. En una prestatgeria de la biblioteca hi ha 127 llibres i en una altre n'hi ha 248. Si n'agafem 24 quants llibres quedaran a les prestatgeries?

Esquema:

Operació:

Resposta:

8. Un llibre costa 26 euros i una barca en costa 89. Quina diferència de preu hi ha entre el llibre i la barca?

Esquema:

Operació:

Resposta:

Problemes

- 9.** L'Aina té 5 cromos i el seu germà en té cinc vegades més. Quants cromos té el seu germà?

Esquema:

Operació:

Resposta:

- 10.** La Núria té tres bosses. Si a cada bossa té 4 cartes, quantes cartes té en total?

Esquema:

Operació:

Resposta:

Calcula :

$4 \times 4 =$

$70 - 30 =$

$2 \times 10 =$

$80 + 15 =$

$3 \times 7 =$

$74 + 2 =$

$3 \times 9 =$

$47 + 40 =$

